

國立中壢高商第二屆會計產業實務專班筆試試卷

科目：(計算機概論) 命題範圍：高一~高二範圍


人工閱卷 電腦閱卷

班級： 座號： 姓名： 總分：

一、本測驗總共 50 題，每題 2 分，總計 100 分，作答時間為 60 分鐘。

二、請依規定作答。


- 對於第五代電腦的專家系統敘述何者正確？(A)屬於人工智慧的應用領域 (B)可以廣泛的解決所需要的問題 (C)包含使用者介面、推論結果介面與知識庫 (D)以上皆正確
- 在資料輸入時，有所謂的 GIGO，意思是：(A)錯誤資料輸入也能得到正確的資料 (B)資料的輸入必須正確 (C)資料輸入的傳輸穩定是很重要的 (D)以上皆非
- 有關行動條碼(QR Code)的敘述何者有誤？(A)智慧型手機可透過照相功能與解碼軟體來解讀 (B)是一種結合銷售與辨識系統的條碼 (C)是一種特殊的二維編碼格式 (D)條碼資訊中可以有文字圖形或網址
- 為了減少昂貴的訓練器材與訓練人員的損失，我們可以利用何種電腦科技進行協助模擬訓練？(A)VR (B)CAD (C)RFID (D)CRM
- 詐騙集團利用非常近似的網站，誘使使用者登入盜取其帳號密碼，這種手法稱為：(A)零時差攻擊 (B)網路釣魚 (C)網路詐騙 (D)資料竊取
- 利用何種工具或技術最能檢測出資料的完整性以確保網路交換資料的完整性？(A)防火牆 (B)防毒軟體 (C)加密 (D)數位簽章
- 中央運算單元(CPU)運作的機器週期(Machine Cycle)指的是：(A)擷取、運算、執行、儲存 (B)擷取、解碼、執行、顯示 (C)擷取、解碼、執行、儲存 (D)擷取、解碼、運算、儲存
- 某個電腦的 CPU 時脈是 2000MHz，且電腦的 CPI 為 2，試問這部電腦的 MIPS 為多少？(A)100 (B)200 (C)1000 (D)5000
- 下列讀取速度最快的是：(A)虛擬磁碟 (B)硬式磁碟 (C)光碟 (D)隨身碟
- 虛擬記憶體會將程式儲存於何處以解決主記憶體之不足？(A)硬碟 (B)快取記憶體 (C)光碟 (D)以上皆非
- 雷射印表機的列印速度單位為：(A)BPS (B)DPI (C)PPM (D)RPS
- 何者不屬於電腦的作業系統？(A)Windows (B)Linux (C)DOS (D)BIOS
- 在 Windows 中想要選取非連續檔案，可配合使用滑鼠左鍵與下列哪一個按鍵？(A)Shift (B)Ctrl (C)Alt (D)Tab
- 在 Windows 中的何種檔案系統限制在 16TB，(A)FAT16 (B)exFAT (C)NTFS (D)FAT32
- 保有著作權且可免費複製及使用的軟體是：(A)免費軟體 (B)共享軟體 (C)自由軟體 (D)公共財軟體
- 成為小說作家不再是夢，網路小說可以幫你圓夢，該小說著作權何時就成立擁有？(A)小說上傳後 (B)小說出版後 (C)小說著作完成後 (D)小說登記完成後
- 在 OSI 階層中，負責將資料封包轉成訊框，並監督資料傳輸的過程是：(A)實體層 (B)資料鏈結層 (C)會議層 (D)傳輸層
- 網路名稱透過何種裝置轉換成 IP？(A)UDP (B)ARP (C)POP3 (D)DNS
- 使用 LTE 技術的電話系統屬於哪一個世代？(A)3G (B)3.5G (C)4G (D)4.5G
- 一般企業所使用的 IP 是屬於哪一等級？(A)Class A (B)Class B (C)Class C (D)Class D
- 在網頁設計上常用的圖檔中何種是屬於破壞性影像失真的格式？(A)GIF (B)PNG (C)JPG (D)BMP
- 製作網頁時所用的主要語言是？(A)JAVA (B)HTML (C)FLASH (D)VRML
- 在電子商務中不屬於物流的是：(A)商品促銷 (B)貨物配送 (C)倉儲管理 (D)商品集貨
- 在網路上物，為了避免付款後收不到物品，且又因工作繁忙無法配合郵局或宅配時間，可採用何種方式交易較適合？(A)貨到付款 (B)信用卡付款 (C)第三方支付 (D)以上皆非
- <https://mybid.ruten.com.tw/master/my.php> 使用了何種網路安全機制？(A)SET (B)SSL (C)SATA (D)SAS
- 電子商務中常見的觸法行為：(A)侵犯智慧財產權 (B)侵犯隱私權 (C)侵犯商標權 (D)以上皆是
- 某網站發現有大量資料登入，造成該網站癱瘓無法提供服務，該網站有可能遭受的狀況為：(A)機器人病毒攻擊 (B)阻斷服務攻擊 (C)零時差攻擊 (D)邏輯炸彈
- 使用公用電腦後要登出的主要目的是：(A)避免 cookie 紀錄資料 (B)避免 browser 紀錄資料 (C)避免 APP 紀錄資料 (D)避免 note 紀錄資料
- 台灣颱風期間因未達放假標準而於相關網站上公布，卻有人惡意竄改為放假一天，這行為觸犯了：(A)民法 (B)行政法 (C)刑法 (D)颱風假法
- 網路上最容易觸犯的法律行為是：(A)濫發垃圾郵件 (B)公開他人相片 (C)惡意言論 (D)以上皆是

31. 在 Windows 中要切換中文與英文輸入法的組合鍵是：(A)Ctrl+Alt+Space (B)Shift+Space (C)Ctrl+Space (D)Ctrl+Shift+Space
32. Word 狀態列中顯示[節:2 頁面:5/14]，其所表示的意思是：(A)共有 14 頁 (B)目前在第 5 頁 (C)目前頁面在第 2 節 (D)以上皆是
33. 在 Word 中， 按鈕的功能是：(A)填入顏色 (B)複製格式 (C)清除內容 (D)置中對齊
34. 在 PowerPoint 中，哪一種「檢視模式」可以「提供層次，並以條列方式來顯示投影片之文字內容」？(A)大綱模式 (B)標準模式 (C)瀏覽模式 (D)放映模式
35. 在 Excel 中，一個活頁簿至少須包含幾個工作表？(A)0 (B)1 (C)2 (D)3
36. 在 Excel 中儲存格 D1 輸入「=vlookup(75000,A1:B4,2,0)」，結果為：(A)0% (B)9% (C)#N/A (D)11%

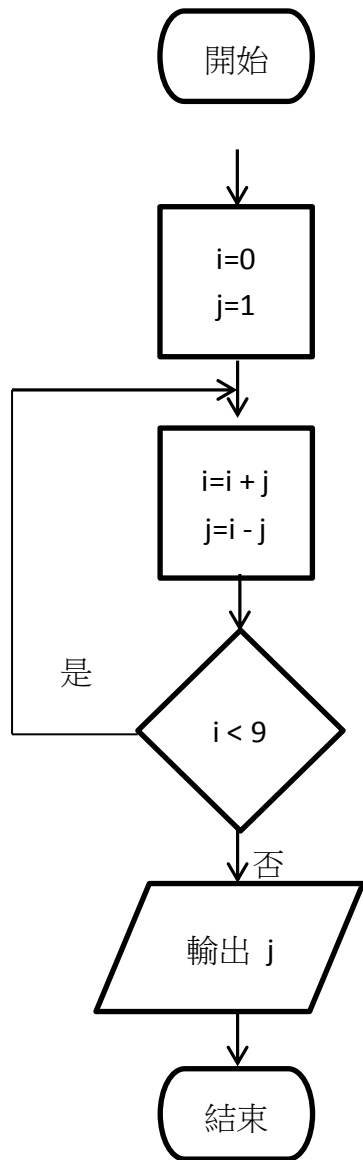
	A	B	C	D
1	10000	5%		
2	30000	7%		
3	50000	9%		
4	100000	13%		


37. 在 Excel 中，當欄位中出現「#####」的表示意思是？(A)公式錯誤 (B)錯誤的值 (C)儲存格欄位不夠寬 (D)無效的格式
38. 在 Excel 中想要將排序方式依照使用者的需求排序，所要使用的方法為：(A)遞增排序 (B)條件排序 (C)規則排序 (D)自訂排序
39. 在 Excel 中想要得到 H 欄的結果，在 H3 所設立的公式應該為何？並且可以將公式複製至 H7：
- (A) =rank(g3,g3:g7,0)
 (B) =rank(g3,g3:g7,1)
 (C) =rank(g3,\$g\$3:\$g\$7,0)
 (D) =rank(g3,\$g\$3:\$g\$7,1)

	A	B	C	D	E	F	G	H
1	編號	姓名	筆試成績(30%)	面試成績(70%)			總成績	排名
2				委員 1	委員 2	委員 3		
3	1	昂小名	85	88	84	82	85	1
4	2	姜子牙	缺考	缺考	缺考	缺考	0	5
5	3	王大	88	78	80	81	82	2
6	4	林倩倩	73	75	70	78	74	4
7	5	趙重慶	78	80	81	82	80	3

40. 一張 5" X 7"的相片，解析度為 300PPI，請問像素尺寸為多少？(A)1500X2100 (B)1024X1280 (C)1024X2100(D)1800X2100
41. 要產生動畫效果至少需要每秒幾張的播放速度？(A)20 (B)24 (C)30 (D)35
42. 何者不屬於多媒體設計中的動態視訊格式？(A)AVI (B)MOV (C)MPEG2 (D)WAV
43. 下列何者不是演算法的基本結構？(A)重複 (B)條件 (C)跳躍 (D)循序
44. 根據 ANSI 流程圖符號中  所代表的意義為：(A)連接符號 (B)列印符號 (C)報表輸出 (D)處理程序
45. 何種電腦語言具有易寫易懂的特性？(A)機器語言 (B)高階語言 (C)組合語言 (D)低階語言
46. 使用 MsgBox 敘述時，若要同時設定訊息圖及回復鈕，則需要使用哪一種符號來連接？(A)+ (B)& (C)* (D)-
47. 何者為 VB 語言宣告變數的保留字？(A)Rem (B)Const (C)As (D)Dim
48. ABC\$在 VB 語言中代表的是：(A) 實數變數 (B)整數變數 (C)字串變數(D)單精度變數

49. 下列流程圖執行的結果，變數 j 的輸出值為何？(A)5 (B)6 (C)7 (D)8



50. 流程圖符號  所對應的指令是：(A)GoTo (B)For Next (C)If (D)Debug

